

1. මේ කවිය කියවන්න. ප්‍රශ්නවලට පිළිතුරු ඉන් තෝරා ලියන්න.

ආකාසේ නිල් තරු කැට - පියාඹලා මහ පොළොවට
 සේපාලිකා මල් ගහ උඩ - දිලිසෙනවා කදිම රුවට
 මාල පොටක් පොඩි නංගිට - හදා දෙන්න පුළුවනි මට
 නූල් පටක් අරන් අතට - හිමින් ගියා ගහ ගාවට
 සර සර ගා එක රැනට - ඉගිල්ලුණා නිල් තරු කැට
 කණාමැදිරියනි ආයෙත් - සමාවෙලා එන්න බිමට
 (සිංහල කියවීම් පොත - 3 ශ්‍රේණිය)

- ♦ තරු කැටවල පාට කුමක් ද?
- ♦ ඒවා දිලිසෙන්නේ කුමන ගහ උඩ ද?
- ♦ මාල පොටක් හදා දෙන්න පුළුවනි යැයි කියන්නේ කාට ද?
-
- ♦ නිල් තරු කැට ඉගිල්ලුණේ කෙසේ ද?
- ♦ නැවතත් යන වචනයේ සමාන පදය සොයා ලියන්න.
- ♦ මල යන වචනයේ බහුවචනය සොයා ලියන්න.
- ♦ උඩට විරුද්ධ පදය ලියන්න.

2. අක්ෂර වින්‍යාසය නිවැරදි වචන යටින් ඉරක් අඳින්න.

♦ (ළමයා / ලමයා) ♦ (පිළිහුඩුවා / පිලිහුඩුවා)

3. හිස්තැනට නිවැරදි වචනය යටින් ඉරක් අඳින්න.

- ♦ (මම / අපි) උදෙන් ම අවදි වුණෙමි.
- ♦ (අපි / මම) ඔංචිලි පැද්දෙමු.
- ♦ (සීයා / ආච්චි) තාලයට කවි කිවුවා ය.
- ♦ ගස් සුළඟට (වැනෙයි / වැනෙති)

4. පහත වචන යොදා වගුව පුරවන්න.

(ගෙම්බා / පැන්සල / පාසල / වැසිකිළිය /
 ගුරුතුමා / අශ්වයා / ගොවියා / අඩිකෝදුව)

පුද්ගල නාම	ද්‍රව්‍ය නාම	ස්ථාන නාම	සත්ව නාම
.....
.....

5. ප්‍රස්තාව පිරුළුවල අඩු කොටස යටින් ඉරක් අදින්න.

- ♦ ඉදිකටුවයි වගේ (කම්සයයි / නූලයි)
- ♦ පිහාටු ඉල්ලනවා වගේ (ඉබ්බන්ගෙන් / කුරුල්ලන්ගෙන්)

6. මෙම කවිපදවල හිස්තැන් පුරවන්න.

- ♦ ඉර පායන තෙක් නිදනා -
- අරුණට පළමුව එයිනා - පිබ්බෙනු මැන සෑම දිනා
- ♦ ඉඳුල් අතින් පැන් බඳුන ද - නාල්ලනුව හැඳි ආදි ද
- කටේ කෑම පුරවා හිඳ -

7. පහත දී ඇති ඉංග්‍රීසි වචන සඳහා සිංහල තේරුම තිත් ඉර මත ලියන්න.

- ♦ School ♦ Pencil

8. පහත රූප සඳහා ඉංග්‍රීසි භාෂාවේ යෙදෙන වචනය ඉංග්‍රීසි අකුරෙන් ලියන්න.



♦

.....



♦

.....

9. පහත වචන සඳහා දෙමළ භාෂාවෙන් කියන නම් ලියන්න.

- ♦ බත් ♦ කිරි

10. මේ වාක්‍යය දෙක සිංහල භාෂාවට හරවා ලියන්න.

- ♦ නාන්ගල් ඉඩ්දප්පම් සාප්පිචුවෝම්

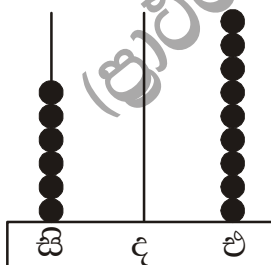
.....

- ♦ තම්බි ඉංගේ වාරුංගල්

.....

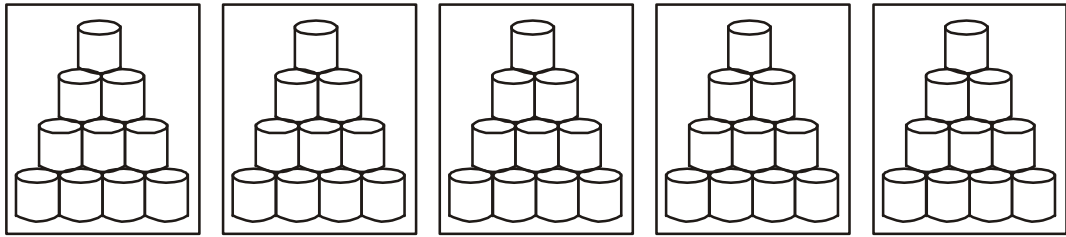
■ දී ඇති තිත් ඉර මත පිළිතුරු සපයන්න.

11. ගණක රාමුවේ දැක්වෙන සංඛ්‍යාව තිත් ඉර මත ලියන්න.

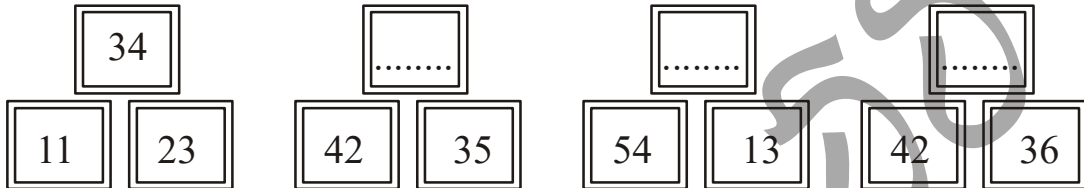


.....


12. දහයෙන් දහයට මුළු කිරී ටින් ගණන කීයද?



13. උදාහරණය තේරුම් ගනිමින් හිස් කොටු පුරවන්න.



14. සතියේ පළමු දවස කවදා ද?
15. අවුරුද්දේ අවසාන මාසය කුමක් ද?
16. පහත ඔරලෝසු මුහුණත් දෙකෙහි ඇති වේලාවන් තිත් ඉර මත ලියන්න.



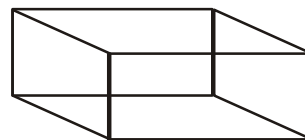
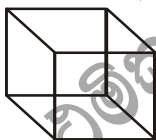
වේලාව

වේලාව

17. පහත හිස්කොටු පුරවන්න.

x	1	2	3	4	5
2	2	8

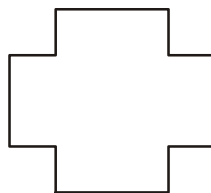

18. මේ සතවස්තු හඳුනාගෙන එහි නම තිත් ඉර මත ලියන්න.



.....

.....

19. පහත රූපවලින් හරි අඩක් (දෙකෙන් එකක්)පැන්සලින් පමණක් පාටකරන්න.



20. 6, 1 මේ ඉලක්කම් දෙස බලන්න. ඉන් සෑදිය හැකි,

♦ විශාල ම සංඛ්‍යාව

♦ කුඩා ම සංඛ්‍යාව

21. පහෙන් පහ ගණන් කරමින් මල් පෙති ගණන සොයමු.



22. උදාහරණය බලන්න. ඒ අනුව වගුව පුරවන්න.

සංඛ්‍යාව	දහයේ ඒවා	එකේ ඒවා
4 6	4	6
3 9
7 8

23. පහත ගණක පෙතෙහි ඇති සංඛ්‍යාව ලියන්න.

දහයේ ඒවා	එකේ ඒවා
.....

දහයේ ඒවා	එකේ ඒවා
.....

24. එකතු කර පිළිතුරු ලියන්න.

	3	2
+	4	3

	6	1
+	2	6

	4	0
+	5	6

	7	2
+	2	7

25. අඩු කරන්න.

	6	5
-	3	4

	7	2
-	2	2

	5	9
-	3	0

	4	5
-	4	5

♦ 26 සිට 55 තෙක් ප්‍රශ්නවලට පිළිතුරු ලියන්න.

26. අපේ ජාතික ගීය රචනා කළේ කවුරුන් විසින් ද?

1. එස් මහින්ද හිමි

2. ආනන්ද සමරකෝන් මහතා

3. මාර්ටින් වික්‍රමසිංහ මහතා

38.

මේ රට මගෙ රට - මා ඉපදුනු රට

හැදෙන වැඩෙන රට - මගේ ම මව් රට

මේ ගීය රචනා කළේ,

1. මාලනී බුලත්සිංහල මහත්මිය
2. මීරුධා හේමලතා මහත්මිය
3. එස්. මහින්ද හිමි


39. පොඩි කළ විට සුවදින් හඳුනා ගත හැකි ශාක පත්‍රයකි,

1. අඹ
2. කුරුඳු
3. කෙසෙල්

40. පැණි බීම බෝතලයක අඩු සීනි දක්වන වර්ණය වනුයේ,

1. රතු පාට
2. කැහිලි පාට
3. කොළ පාට

41. පහත දරුවන් තිදෙනා අතරින් පෝෂණ උණකාවයෙන් පෙළෙන දරුවා තෝරන්න.



42. ඇසුරුම් කළ ආහාර වර්ගයක් මිල දී ගැනීමේ දී සැලකිය යුතු ම දෙයකි,

1. දැවුමේ අලංකාරය
2. මිල දී ගන්නා කඩය
3. කල් ඉකුත් වීමේ දිනය

43. “රන් රඹුටන් ගස් දෙකයි - වලි කුකුළන් පස් දෙනයි” මෙය,

1. විරිඳුවකි
2. රබන් පදයකි
3. කෙළි ගීයකි

44. කොළ කැඳ සෑදීම සඳහා යොදා නොගන්නා කොළ වර්ගයකි,

1. හාතවාරිය
2. වැල්පෙනෙල
3. කහඹිලියා


45. අපට නිදහස ලැබුණු දිනය ලෙස සැලකේ,

1. 1948 පෙබරවාරි 04
2. 1815 මාර්තු 02
3. 1995 මාර්තු 06

46. “බාලෝපදේශය” කවි රචනා කර ඇත්තේ,

1. මාර්ටින් වික්‍රමසිංහ මහතා
2. කුමාරතුංග මුනිදාස මහතා
3. ටී.බී. ඉලංගරත්න මහතා

47. මේ රූපයෙන් දැක්වෙන්නේ,



1. පණ්ඩිත් අමරදේව ශූරීන් ය
2. පණිභාරත ශූරීන් ය
3. ඩී.ඩී. ගුණසේන ශූරීන් ය

48. “නත්තල් උත්සවය” අයත් ආගම වනුයේ,

1. බෞද්ධ 2. හින්දු 3. කතෝලික




49. රථවාහනවල ජාතික කොඩිය ප්‍රදර්ශනය කරන්නේ,

1. මංගල උත්සවයේ දී ය 2. බක්මහ උළෙලේ දී ය
3. නිදහස් උත්සවයේ දී ය

50. දඩ මස් හා මී පැණි ආහාරයට ගන්නේ,

1. බර්ගර් ජාතිකයන් 2. ආදිවාසීන් 3. වෙළෙන්දන්

51. ගෘහ ආශ්‍රිතව ඇති කරන සතෙකු නොවන්නේ,



52. ගසකින් ගසකට පැන යාමට සුවිශේෂී හැකියාව ඇත්තේ මේ අතරින් කුමන සතාට ද?

1. ගෙම්බාට 2. හාවාට 3. වඳුරාට

53. දියනියක් කෙස් පිරා එහි දමනු ලබන ගැටය හඳුන්වනු ලබන්නේ,

1. ටයි ගැටය 2. ලේස් ගැටය 3. සමනල ගැටය

54.  පාසලේ දී අප පරිහරණය කරන මේ සංගීත භාණ්ඩය වනුයේ,

1. පියානෝව 2. ගැටබෙරය 3. වයලීනය

55. මෙහි දැක්වෙන්නේ ආහාර වර්ගයක ආකෘතියකි. මෙහි බැලුම වටා අලවා ඇත්තේ කුමන බීජය ද?

1. වෙරළු 2. රබර් 3. මුං

56. “එළඳෙනක් කතා කරයි” යන මාතෘකාව යටතේ වාක්‍ය තුනක් ලියන්න. කතා කරන භාෂාවෙන් නොලියන්න.

- ♦
.....
- ♦
.....
- ♦
.....