

01. මේ ඡේදය කියවන්න. ඉන් අසා ඇති ප්‍රශ්නවලට පිළිතුරු තෝරා ලියන්න.

කටින් අල්ලාගෙන සිටි පාන් කැබැල්ලේ වූ කිරි රස ලේනාගේ දිවට දැනී ඇත. උඟ වරෙක පාන් කැබැල්ල දෙස කෙළින් ම බලමින්, එහි රසය විඳ ගනී. කැදර ලෙස එකවර ගිල දමනවා වෙනුවට උඟ මද වේලාවක් නාද කරමින් සතුට පළ කරයි. නැවතීමකින් තොරව සෙලවෙන උදුපියල්ලක් තරමම් වූ මුවපොඩිය ළං කරමින් පාන් කැබැල්ල ටිකෙන් ටික කටින් කඩාගෙන කයි.

(අහස පොළොවට ළං වෙලා - රංජිත් ධර්මසිරි)

- ♦ ලේනාගේ දිවට දැනී ඇත්තේ කුමක් ද? .....
- ♦ උඟ සතුට පළ කරන්නේ කෙසේද? .....
- ♦ ලේනාගේ මුව පොඩිය දක්වා ඇත්තේ කෙලෙස ද? .....
- ♦ ඒකවචන ක්‍රියා පද දෙකක් ඇත. ඒ මොනවා ද? .....
- ♦ ටික යන අදහස ගෙනෙන සමාන පදය කුමක් ද? .....
- ♦ දීර්ඝ ඇදය යෙදී ඇති අකුරක් සොයා ලියන්න. ....
- ♦ නිර්ඝ විරුද්ධ පදය සොයා ලියන්න. ....

02. පහත කවි සම්පූර්ණ කළ යුත්තේ වරහන් තුළ ඇති වචන යොදාගෙන ය.

- ♦ ඉර බැස යයි ..... තරු බැබළෙයි රැ අහසයි.
  - ♦ සඳ හිනැහෙයි ..... තරු දිදුලයි. මට පුදුමයි.
  - ♦ තරු යායයි ..... රන් පාටයි හරිම හැඩයි
  - ♦ සඳයි තරුයි ..... පුංචි සිතට සතුට නැගෙයි.
- (අඳුරු නැසෙයි / එළිය ගෙනෙයි / සඳ නැග එයි / මල් වාගෙයි)

03. නිවැරදි අදහස ගෙනෙන පදය තෝරා යටින් ඉරක් අදින්න.

- ♦ එක හුස්මට (යම් කිසි කාර්යයක් අවසන් වන තෙක් නොනවත්වා කිරීම / දැඩි සතුටකට පත්වීමේ දී)
- ♦ අකුරක් නැර (ඉක්මණින් කියවා අවසන් කිරීම / කිසිවක් අත නොහැර කතා කිරීම හා ලිවීම)

04. හිස්තැනට සුදුසු යුගල පදය යටින් ඉරක් අදින්න.

- ♦ අපි ..... පිරිසිදුව තබා ගනිමු (කෙළි සෙල්ලම් / ගෙවල් දොරවල්)
- ♦ පාරේ ..... තදබදය වැඩිය (වතුපිටි / යාන වාහන)

05. පහත වාක්‍යය නිවැරදිව ගලපා ලියන්න.

♦ ටික / දර / අපි / ගනිමු / ගෙට

.....

♦ අහසේ / පාවෙති / වළාකුළක් / මහ

.....

06. සුදුසු විරාම ලකුණු යොදන්න.

♦ හාල් කිලෝවක මිල කීය ද

07. අක්ෂර වින්‍යාසය නිවැරදි වචනය යටින් ඉරක් අඳින්න.

♦ (තරාග ප්‍රධානය / තරාග ප්‍රදානය) ♦ (අළුයම / අලුයම)

08. විරුද්ධ පදය ලියන්න.

♦ ආදරය ..... ♦ ප්‍රභූණු .....

09. ලියන භාෂාවට හරවන්න.

♦ මං උදෙන් ම කුඹුරට ගියා .....

10. ප්‍රස්ථාව පිරුළ සම්පූර්ණ වීමට සුදුසු වචනය යටින් ඉරක් අඳින්න.

♦ ..... රජ්ජුරුවන්ගේ නඩු තීන්දුව වගේ (කැකිල්ලේ / වේතිය)

♦ මඩේ හිටවපු ..... වගේ (තොටිල්ල / ඉන්න)

11. එක් එක් ඉංග්‍රීසි වචනය සඳහා සිංහල වචනය සිංහල අකුරෙන් ලියන්න.

♦ Playground ..... ♦ Hospital .....

12. පහත රූප සඳහා ඉංග්‍රීසි වචනය ඉංග්‍රීසි අකුරින් ලියන්න.



♦ ..... ♦



.....

13. පහත දී ඇති වචන ගලපා අර්ථවත් වාක්‍යයක් ලියන්න.

♦ are / we / Sri Lankans .....

♦ Name / is / my / Sahan .....

14. “පාටිසෝරු” සිංහලයට හරවා ලියන්න. ....

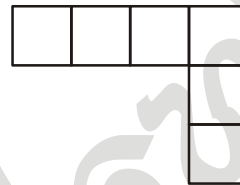
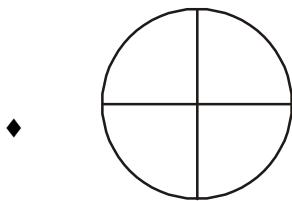
15. “මෙහෙට එන්න” දෙමළින් කියන අයුරු සිංහල අකුරෙන් ලියන්න.

.....

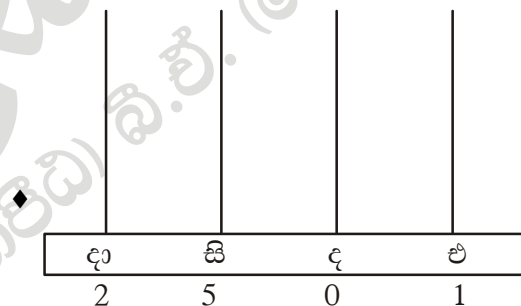
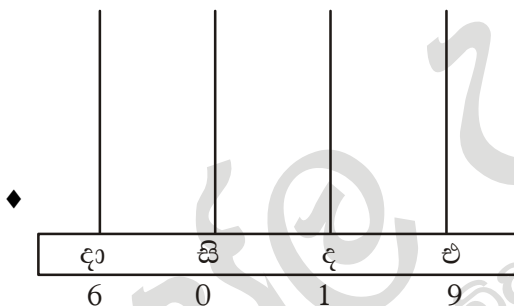
16. අටදහස් දෙසිය දහහතර ඉලක්කමෙන් ලියන්න. ....
17. පහත කොටුවේ ඇති ඉලක්කම් තුන භාවිතා කරමින් 700 - 800 අතර සංඛ්‍යාවක් ලියන්න. 

6	7	9
---	---	---

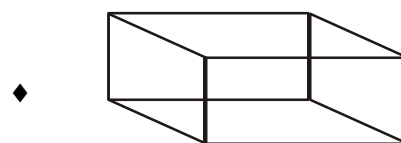
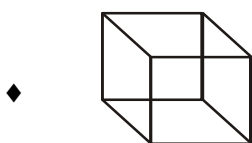
 .....
18. නිපුණි ළඟ බොත්තම් 97 ද, ගයනී ළඟ බොත්තම් 75 ද ඇත. ගයනීට වඩා නිපුණි ළඟ ඇති බොත්තම් ගණන කීයද? .....
19. මා ළඟ මුද්දර 450 ඇත. තාත්තා මට තව මුද්දර 385 දුන්නේය. දැන් මා ළඟ ඇති මුද්දර ගණන කීයද? .....
20. මීටරයක සෙන්ටිමීටර සියයකි. ඒ අනුව පහත හිස්තැන් පුරවන්න.  
♦ 8 m 60 cm = ..... ♦ 3m 25 cm = .....
21. පහත රූපවල  $1/2$  අඳුරු කරන්න.



22. පහතින් දක්වා ඇති සංඛ්‍යා ගණක රාමුවේ සටහන් කරන්න.

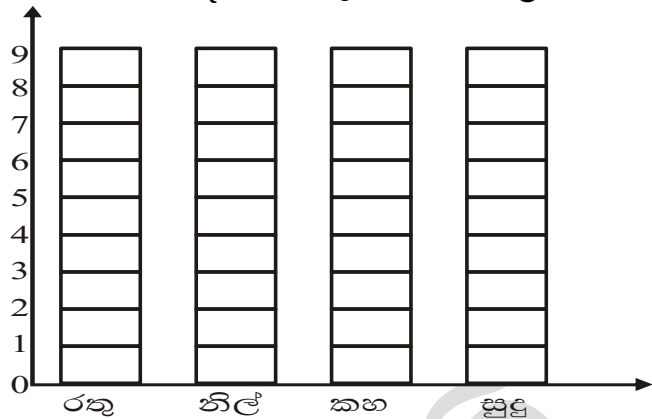


23. ටොරි 408 ක් බෝතල් දෙකකට සමානව දමන ලදී. එක් බෝතලයකට දමූ ටොරි ගණන කීයද? .....
24. රූපියලකට සත කීයද? .....
25. කොළ පැහැයෙන් යුත් ඉලක්කම් හතරකින් යුත් නෝට්ටුව කුමක් ද? රූපියල් .....
26. පහත ඝනවස්තුවල නම් ලියන්න.

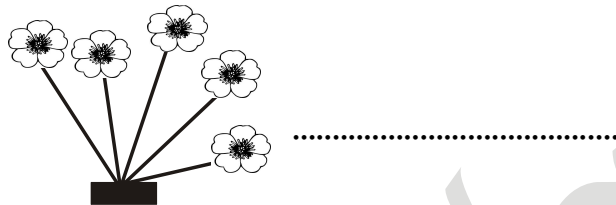


27. පහතින් දැක්වෙන්නේ එක්තරා පාසලක සරඹ සංදර්ශනය සඳහා සිසුන් පිරිසක් භාවිතා කරන ලද තොප්පි පිළිබඳ තොරතුරු ය. එය ප්‍රස්තාරයේ දැක්වේ.

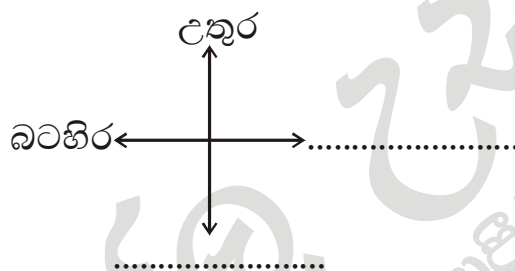
පාට	ප්‍රමාණය
රතු	5
නිල්	8
කහ	4
සුදු	3



28. පහත ඉන්නේ ඇති මල් ගණන රෝම සංඛ්‍යාවෙන් ලියන්න.



29. පහත සටහනේ ඉතිරි දිශා නම් කරන්න.



- 30 සිට 59 දක්වා ප්‍රශ්නවලට නිවැරදි පිළිතුර යටින් ඉරක් අඳින්න.

30. සුදු කම්පයක් හා සුදු කලිසමක් ඇඳ අත් හා පා ආවරණ මෙන්ම මෙන්ම හෙල්මටයක් පැළඳ ක්‍රීඩාවේ යෙදෙන්නේ,


1. ක්‍රිකට් ක්‍රීඩකයා
2. පාපන්දු ක්‍රීඩකයා
3. හොකී ක්‍රීඩකයා

31. වීදුරු බඳුන් අතැතිව දිවීම

1. ආරක්ෂිත ක්‍රියාවකි
2. අනාරක්ෂිත ක්‍රියාවකි
3. සාධාරණ ක්‍රියාවකි

32. පහත දැක්වෙන්නේ බණ්ඩක්කා කරලකි. ඒ පිළිබඳව නිවැරදි ප්‍රකාශය වනුයේ,

1. කොළ පාටය - වැලක සෑදෙයි
2. කහ පාටය - ගසක සෑදෙයි
3. කොළ පාටය - ගසක සෑදෙයි



33.



මේ රූපයේ සිටින්නේ මීයෙකි. උගෙන් බෝවන රෝගයකි,

1. සෙම්ප්‍රතිශ්‍යාව
2. දියවැඩියාව
3. මහාමාරිය

34.

මී පැණි සහ දඩමස් ආහාරයට ගැනීමට ආසා කරන ජන වර්ගය වනුයේ,


1. ඉංග්‍රීසිය
2. බර්ගර් ජාතිකයන් ය
3. ආදිවාසීන් ය

35.

පලතුරු වර්ග ඉදවීම සඳහා යොදා ගන්නා අහිතකර රසායන ද්‍රව්‍යයකි,

1. අජිනමොටෝ
2. සීනි
3. කාබයිට්

36.



මේ ආගමික සංකේතය අයත් ආගම වන්නේ,

1. හින්දු
2. ඉස්ලාම්
3. කතෝලික

37.

බොද්ධ ධර්මය ලිය වී ඇති ධර්ම ග්‍රන්ථය වනුයේ,

1. ත්‍රිපිටකය
2. ධර්මප්‍රදීපිකාව
3. ජාතික කතා පොත් වහන්සේ

38.


හෙළයේ මහා ගත්කතුවරයා යන විරුදාවලිය ලැබූ තැනැත්තා වනුයේ,



2.



3.



39.

ආහාර කල්තබා ගැනීම පුරාණයේ (අතීතයේ) යොදා ගත් ක්‍රමයක් නොවන්නේ

1. දුම් ගැසීම
2. වැලියට සැඟවීම
3. ශීතකරණයේ තැබීම

40.

සින් පහන් කිරීමේ ක්‍රියාවලියේ පළමුවන අවස්ථාව වනුයේ,

1. මානසික ලිහිල් බව
2. අධිෂ්ඨානය
3. ශාරීරික ලිහිල් බව

41.

පහත ආහාර අතරින් නොගත යුතු යැයි කියවෙන ආහාර වර්ගයකි,

1. නිවුඩු හාලේ බත්
2. කරවිල
3. තෙල්බේරෙන බැඳපු ජාති

42. ජාතික ගීය රචනා කළේ කවරෙකු විසින් ද?

1. එස්. මහින්ද හිමි
2. එස්.එම්. සෙනෙවිරත්න මහතා
3. ආනන්ද සමරකෝන් මහතා

43. අපේ ජාතික සත්වයා වනුයේ,



44. “රන් දැකැති ගෙන නිති සැරසෙනවා” මෙය අයත් වන්නේ කුමන ජන කවි වර්ගයට ද?

1. පතල් කවි
2. පාරු කවි
3. ගොයම් කවි

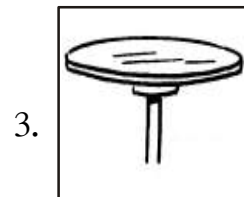


45. රාජ්‍ය ලාංඡනයේ කඩුවක් අතින් ගත් පලාපෙති වටය මැද සිටින සිංහයා ගෙන් දක්වෙන්නේ

1. සිංහල ජාතිය
2. ලක්වැසියන්ගේ එකිනර බව
3. රට හා විනයගරුක ජනතාව

46. ශ්‍රී ලාංකික පුරවැසියන් විසින් සමරනු ලබන ජාතික උත්සවයකි,

1. වෙසක් උත්සවය
2. නත්තල් උත්සවය
3. නිදහස් උත්සවය

47. පහත උපකරණ අතරින් කුඹලා විසින් පරිහරණය කරනු ලබන උපකරණය



48. ඇළදොළවල ජීවත්වන මාළුවෙකි,

1. තල්මහා
2. මෝරා
3. කාවයියා

49. ඇඟිලි හැඩයේ ශාක පත්‍රයකට උදාහරණයකි,

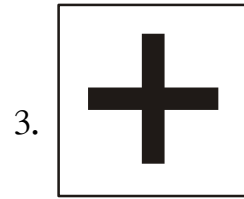
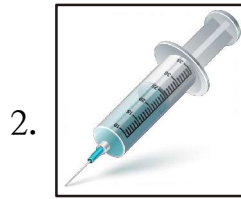
1. කෙසෙල්
2. අඹ
3. දෙල්

50. මුදුන් මුල නොමැති ශාකයකි,



1. පේර
2. දෙළුම්
3. කිතුල්



51. වෛද්‍යවරයකු ලෙස හඳුනා ගැනීම සඳහා සිය රථයේ ඉදිරිපස අලවා ඇති ලාංඡනය කුමක් ද?



52. ශාක පත්‍ර ආහාරයට ගන්නා සතෙකු නොවේ,



53. එරබදු මල් පිපෙන කාලය වනුයේ,

1. ජනවාරි

2. අප්‍රේල්

3. දෙසැම්බර්

54. සිංහල ඉතිහාසය ලියා වී ඇති ග්‍රන්ථය,

1. ගුත්තිලය

2. ජාතක කතා පොත

3. මහාවංසය

55. ගොවියාගේ හතරෙකි,

1. ගැඩවිලා

2. මී මැස්සා

3. ගොළුබෙල්ලා

56. පාංශු ජීවීන් (පසෙහි ජීවත්වන) වර්ගයට අයත් වේ,

1. වඳුරා

2. ගැඩවිලා

3. ගොළුබෙල්ලා

57. ශාකයක් නිතර ම හිරු එළිය දෙසට ම ගමන් කරයි. මේ ප්‍රකාශය,

1. හරිය

2. වැරදි ය

3. විකක් හරිය

58. ගී කියන මාළුන් සිටිනවා යැයි කියවෙන්නේ,

1. පුත්තලමේ

2. මන්නාරමේ

3. මඩකලපුවේ

59. “මගේ රට සුන්දරය” යන මාතෘකාව යටතේ වාක්‍ය තුනක් ලියන්න. වාක්‍යයක වචන පහක්වත් තිබිය යුතුය.

■

.....  
 .....

■

.....  
 .....

■

.....  
 .....